

výlet do jeskyní

1.

V Mladečských jeskyních se průměrná teplota pohybuje mezi 8 až 10 stupni. Zakroužkujte vhodné oblečení, které byste si sebou do jeskyní vzali.



2.




Přečtěte si krátký text o Mladečských jeskyních a barevně označte čas sloves.

- minulý čas:
- přítomný čas:
- budoucí čas:

Jeskyňě opět nabízela v zimním období možnost prohlídky dvěma pevnými vstupy. Hlavní sezóna bude zahájena od dubna a bude trvat až do konce října. Jako každý rok proběhlo ve spolupráci s CHKO Litovelské Pomoraví sčítání letounů. V roce 1881 objevil lebku rakousko-uherský archeolog J. Szombathy v Dómu mrtvých. Původně se předpokládalo, že jde o lebku muže, ale později bylo dokázáno, že se jedná o lebku ženy, která zemřela před 31 000 lety. Tím se řadí mezi nejstarší Homo sapiens v Evropě.

3.

Prohlídková trasa v jeskyních trvá 45 minut. První prohlídka začala v 10:00. 2. prohlídka začala v 11:50 a 3. prohlídka začala v 14:45. V kolik skončila první, druhá a poslední prohlídka?



Procvičte si toho více!

Kahoot!



4.

Poskládejte aktivity tak, jak jdou za sebou.



Vilík z 2.A si chce udělat výlet po okolí. Sám ale napláňovat trasu nezvládne. Pomozte napláňovat trasu Vilíkovi a dovést ho až do cíle. Vilík si sestavil jednotlivé body, kam se chce během dne podívat. K jednotlivým místům si napsal i poznámky, aby mu nic neuniklo. Pomoz Vilíkovi místa uspořádat tak, aby jel přímo, nemusel se vracet a přesto všechny místa navštívil.

Hanácké muzeum Cholina

Městská knihovna Litovel

Mladečské jeskyně

Radniční věž Litovel

kostel Nanebevzetí Panny Marie



Poznámky:

- Svoji cestu chci začít v Cholině.
- Během cesty chci něco rychlého na zub.
- Svůj výlet zakončím v Mladči u babičky.

ÚKOL Č. 1

VYHLEDEJTE SI, KDE SE JEDNOTLIVÁ MÍSTA NACHÁZÍ.

Hanácké muzeum Cholina

Městská knihovna Litovel

Mladečské jeskyně

Radniční věž Litovel

kostel Nanebevzetí Panny Marie

ÚKOL Č. 2

OČÍSLOUJTE MÍSTA (1-5) PODLE TOHO, JAKÉ MÍSTO VILÍK NAVŠTÍVÍ JAKO PRVNÍ A JAKÉ NAVŠTÍVÍ POSLEDNÍ.

- 1
- 2
- 3
- 4
- 5

ÚKOL Č. 3

NAKRESLETE VILÍKOVÍ MAPU S ČÍSLAMI ZASTÁVEK.



Pracujte s internetem, mapami. Využijte při hledání i telefon, PC.

